

Richtig oder falsch?(mit Begründungen) Teil macro

Quellen:

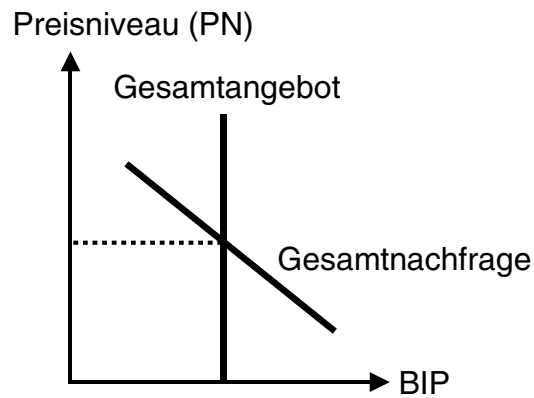
- Salvatore Dominick und Diulio Eugene, Principles of Economics, Schaum's easy outlines, McGraw-Hill, 2003 (I,x)
- Ward Damian und Begg David, Economics, Student Workbook, 8th ed., McGraw-Hill, 2005 (II,x)

5 Staat, Wirtschaftspolitik

5.01	Progressive Steuer (II,94) Richtig oder falsch? Die Einkommensteuer ist progressiv, weil der Grenzsteuersatz grösser als der Durchschnittssteuersatz ist.
5.02	Degressive Steuerwirkungen (II,95) Richtig oder falsch? Die Tabaksteuer hat degressive Auswirkungen.
5.03	Lafferkurve (II,95) Richtig oder falsch? Mit der Lafferkurve kann gezeigt werden, dass unter bestimmten Umständen eine Reduktion des Steuersatzes die Steuereinnahmen erhöhen würde.
5.04	Budgetdefizit und Inflation (II,152) Richtig oder falsch? Ein grosses Budgetdefizit verursacht zwangsläufig eine Inflation, indem die Regierung oder die Notenbank gezwungen wird, Geld zu drucken.
5.05	Crowding-out-Effekt (I,79) Richtig oder falsch? Output Y steigt um 10, falls - Multiplikator 5 beträgt; - Staatskonsum (G) um 10 steigt; - Investitionen (I) um 8 sinken (wegen höheren Zinsen, verursacht durch Zunahme von G)

5.06 Fiskalpolitik und Klassik (II,146)

Ausgangslage:



Richtig oder falsch? Im klassischen Modell führt die Fiskalpolitik bei Rezession vor allem zu Preissteigerungen und nur zu geringen Zunahmen des Bruttoinlandsprodukts (BIP).

5.07 Phillipskurve (II,152)

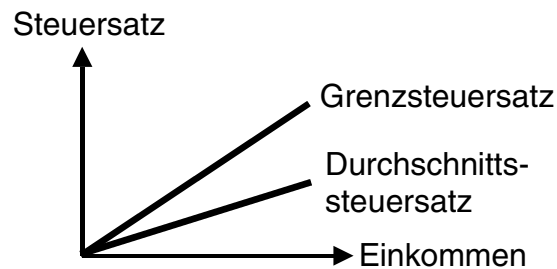
Richtig oder falsch? Die ursprüngliche Phillipskurve zeigt, dass eine Abnahme der Arbeitslosigkeit zum Preis einer höheren Inflation erreicht werden kann.

Richtig oder falsch? *Lösungen* Teil macro

5 Staat, Wirtschaftspolitik

5.01 Progressive Steuer

- Richtig
- Begründung: Bei einer progressiven Einkommensteuer nimmt der durchschnittliche Steuersatz mit höherem Einkommen zu. Dies ist dann der Fall, wenn der Grenzsteuersatz über dem Durchschnittssteuersatz liegt. Grafik:

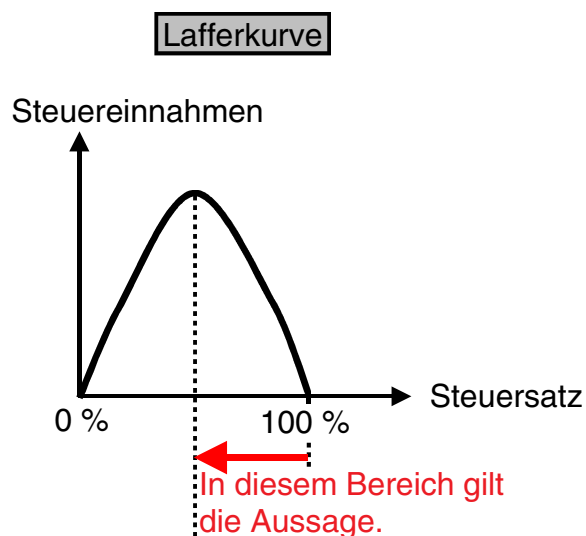


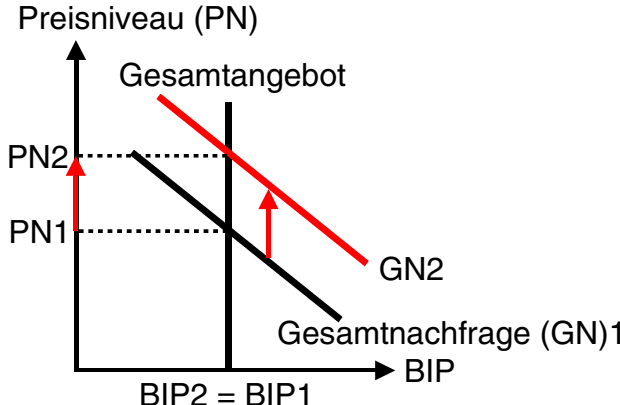
5.02 Degressive Steuerwirkungen

- Richtig
- Begründung: An sich handelt es sich um eine proportionale Steuer, falls die Steuer pro Paket bemessen wird. Eine dermassen proportionale Steuer wirkt aber degressiv in bezug auf die vom Raucher erzielten Einkommen, indem der 'arme' Raucher mehr belastet wird und der 'reiche' Raucher weniger belastet wird.

5.03 Lafferkurve

- Richtig
- Begründung: Falls die Lafferkurve den unten beschriebenen Verlauf hat, führt eine Steuersatzreduktion zu mehr Steuereinnahmen. Grafik:



<p>5.04</p>	<p>Budgetdefizit und Inflation</p> <ul style="list-style-type: none"> • Falsch • Begründung: Das Budgetdefizit kann auch anders gedeckt werden, z.B. durch die Ausgabe von Staatsanleihen.
<p>5.05</p>	<p>Crowding-out-Effekt</p> <ul style="list-style-type: none"> • Richtig • Begründung: Erhöhung $Y = (\text{Erhöhung } G - \text{Reduktion } I) * \text{Multiplikator}$ $10 = (10 - 8) * 5$
<p>5.06</p>	<p>Fiskalpolitik und Klassik</p> <ul style="list-style-type: none"> • Falsch • Begründung: Nur das Preisniveau steigt, nicht aber das Bruttoinlandprodukt. Grafik: 
<p>5.07</p>	<p>Phillipskurve</p> <ul style="list-style-type: none"> • Richtig • Begründung mit Grafik 