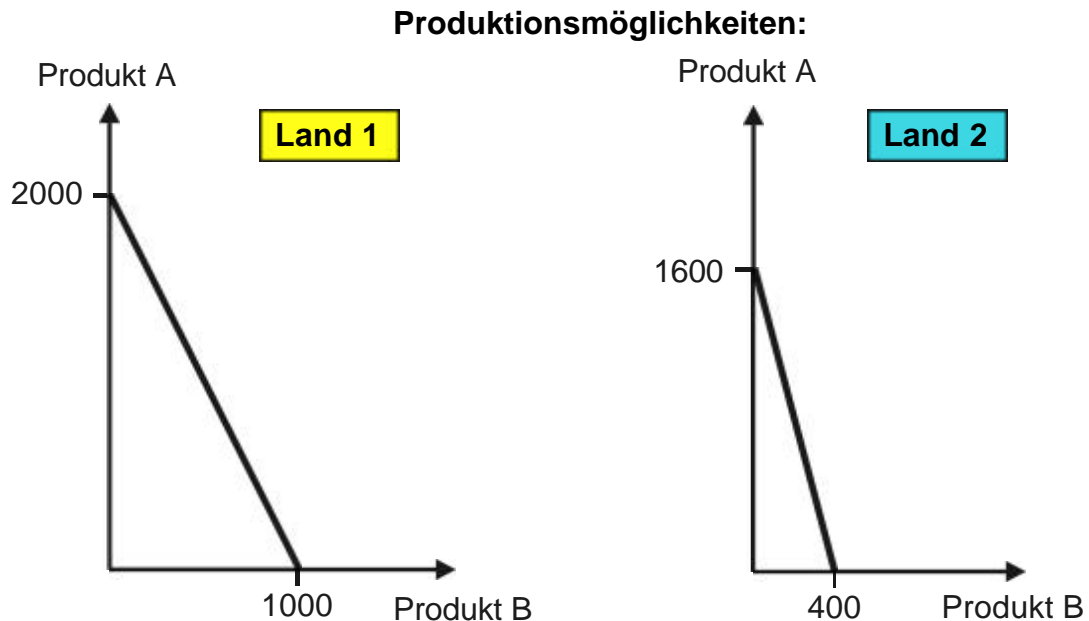


Aufgaben Makroökonomie (mit Lösungen)

5 Aussenwirtschaft

01 Komparativer Vorteil

Finden im folgenden Fall Spezialisierung und Aussenhandel statt (keine Zölle, keine Transportkosten)? Welches Land spezialisiert sich allenfalls auf welches Produkt?



02 Wechselkurse 1 (Flexible und feste Wechselkurse)

Was unterscheidet flexible Wechselkurse von festen? Antworten auch mit Grafiken

03 Wechselkurse 2 (Flexible Wechselkurse)

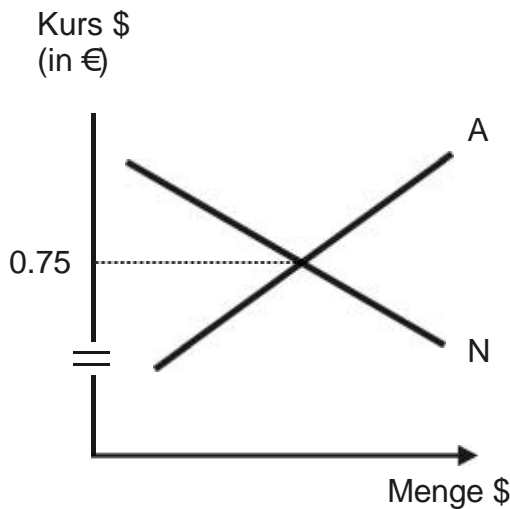
In einer Volkswirtschaft mit flexiblen Wechselkursen steigen die Zinsen im Verhältnis zu den Zinsen im Ausland. Was wird mit den Exporten passieren? Antwort begründen

04 Wechselkurse 3 (Flexible Wechselkurse mit Interventionen)

(A = Angebot \$)

N = Nachfrage \$)

Devisenmarkt (Ausgangslage)



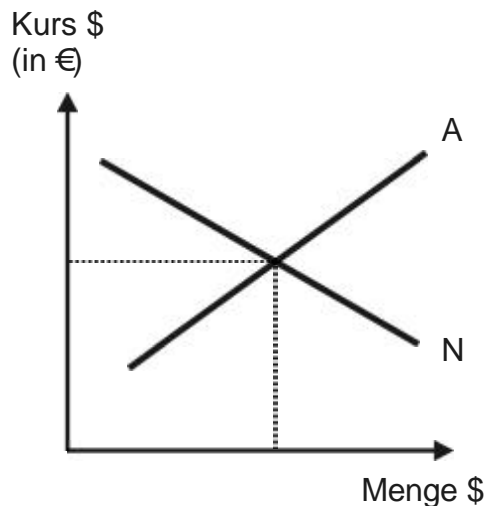
Nun ereignet sich folgendes: Die Europäische Zentralbank (EZB) ist der Meinung, dass der Euro im Verhältnis zum \$ zu tief bewertet ist. Wie könnte die EZB im Devisenmarkt intervenieren, um das Missverhältnis zu beseitigen? Angestrebter \$-Kurs 0.7

05 Wechselkurse 4 (Flexible Wechselkurse)

(A = Angebot \$)

N = Nachfrage \$)

Devisenmarkt (Ausgangslage)



Nun sind folgende Entwicklungen zu beobachten::

- ① Gäste aus dem \$-Raum kommen weniger häufig in das Euroland.
- ② Die Importe aus dem \$-Raum steigen massiv.

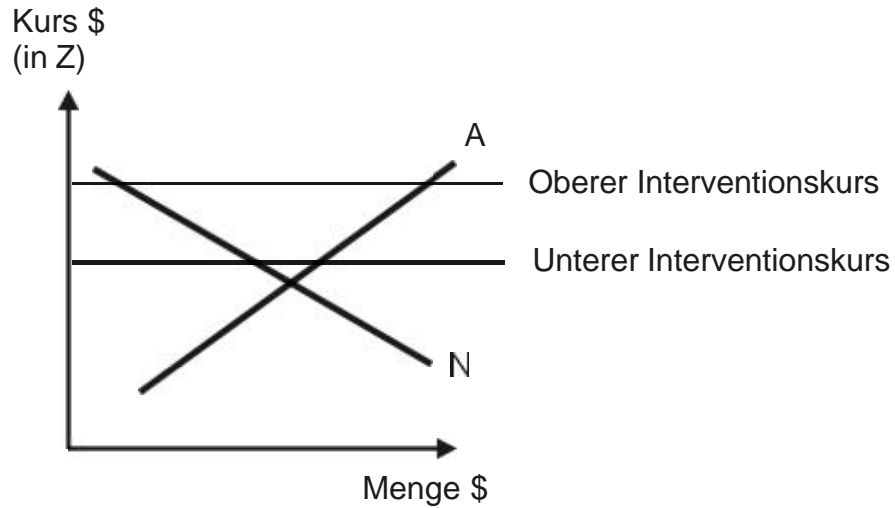
Wie wirken sich diese Entwicklungen auf den \$-Kurs aus? in einer Grafik zeigen und kurz beschreiben

06 Wechselkurse 5 (Feste Wechselkurse)

(A = Angebot \$ N = Nachfrage \$)

Das Land X hat die Wahrung Z und es wendet das System fester Wechselkurse gegenuber dem \$ an. Der Devisenmarkt gemass Grafik zeigt eine chronische Situation, die zu wiederholten Interventionen auf dem Devisenmarkt fuhrt.

Devisenmarkt Land A (Ausgangslage)

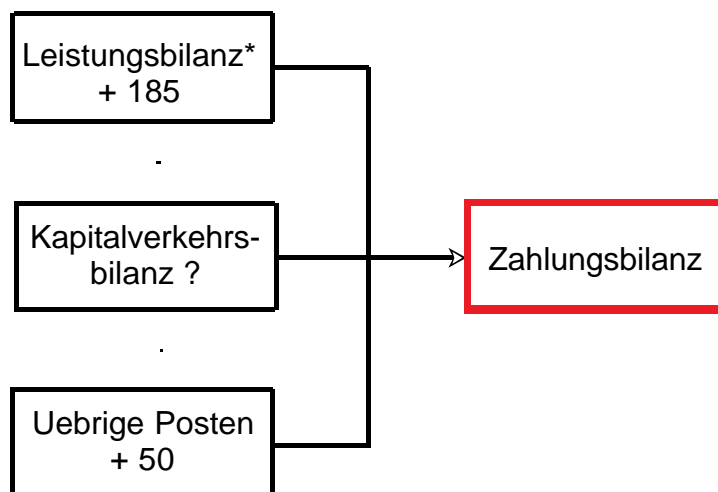


Wie muss die Notenbank in Z intervenieren, um das System fester Wechselkurse aufrechtzuerhalten? mit Grafik antworten und Antwort kurz in Worten begrunden

07 Zahlungsbilanz 1

Wie gross ist der Saldo der Kapitalverkehrsbilanz? Was bedeutet dieser?

Vereinfachte Zahlungsbilanz (+ = Devisenzuflusse / - = Devisenabflusse)



* CH: Ertragsbilanz

08 Zahlungsbilanz 2

Zu welcher Teilbilanz der Zahlungsbilanz einer europäischen Volkswirtschaft gehören folgende Vorgänge (mit Vorzeichen: + = Deviseneinnahmen, - = Devisenausgaben)?

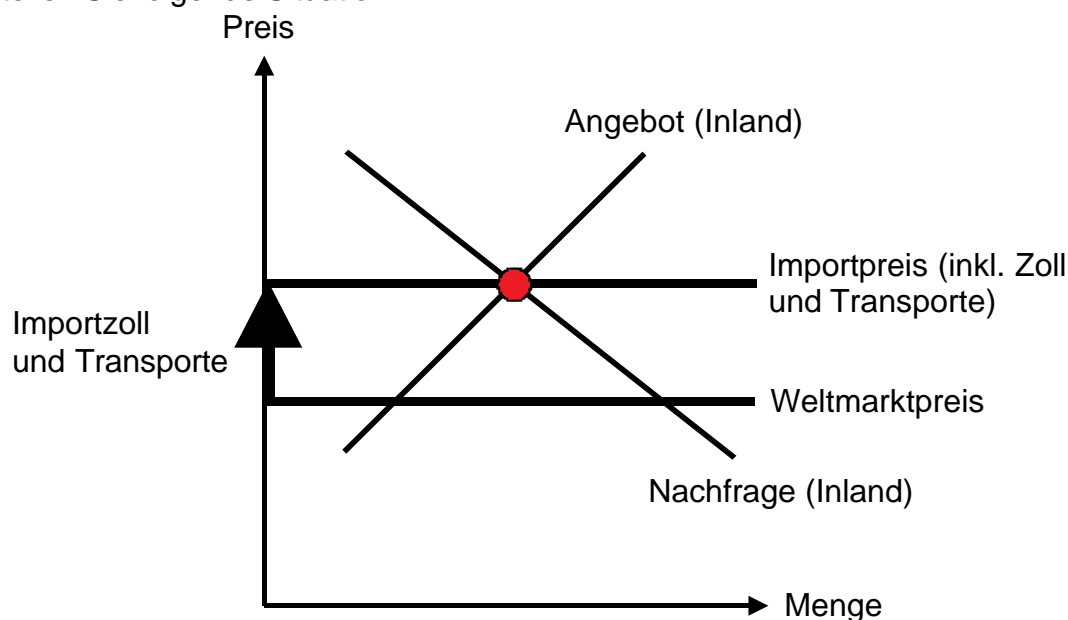
- ① Ein Investor kauft an der Wallstreet amerikanische Aktien.
- ② Der Investor gemäss ① erhält die Dividende auf den amerikanischen Aktien.
- ③ Ein europäischer Tourist macht einen Städteflug nach New York.
- ④ Ein europäischer Früchtegrosshändler kauft Bananen in Costa Rica.

09 Zölle 1

In einem kleinen Land, dessen Preisniveau über dem Weltmarktpreisniveau liegt, wird ein Zoll erhoben. Wer profitiert auf Grund dieses Zolles?

10 Zölle 2

Beurteilen Sie folgende Situation:



→ [Lösungen hier anklicken!](#)